

受験番号



2024年度 入学試験問題 1次日程

社 会

注 意

- ① 先生の指示があるまで問題を見てはいけません。
- ② 問題用紙・解答用紙に、受験番号を最初に書きなさい。
- ③ 解答はすべて解答用紙に書きなさい。
- ④ 問題が見にくいなど、何か不つごうなことがあれば、手をあげて先生が来るまで待ちなさい。

近江兄弟社中学校

OMI BROTHERHOOD JUNIOR HIGH SCHOOL

1 サッカー好きのたかおくとたけしくんは、夏休みの自由研究で 2023 年に 30 周年を迎えた J リーグに、発足当初から加盟している「オリジナル 10」とよばれるチームについて調べました。この表 1 をもとにあとの問題に答えなさい。

表 1. 「オリジナル 10」について

| チーム名 | ホームタウン | リーグ優勝回数 | 2023 年所属リーグ |
|----------------|-----------|---------|-------------|
| 鹿島アントラーズ | 茨城県鹿島郡鹿島町 | 8 回 | J1 |
| ジェフユナイテッド市原 ※1 | 千葉県市原市 | なし | J2 |
| 浦和レッドダイヤモンズ | 埼玉県浦和市 | 1 回 | J1 |
| ヴェルディ川崎 ※2 | 神奈川県川崎市 | 2 回 | J2 |
| 横浜マリノス ※3 | 神奈川県横浜市 | 5 回 | J1 |
| 横浜フリューゲルス ※4 | 神奈川県横浜市 | なし | 1998 年に合併消滅 |
| 清水エスパルス | 静岡県清水市 | なし | J2 |
| 名古屋グランパスエイト | 愛知県名古屋市 | 1 回 | J1 |
| ガンバ大阪 | 大阪府吹田市 | 2 回 | J1 |
| サンフレッチェ広島 | 広島県広島市 | 3 回 | J1 |

* チーム名とホームタウンは当時の呼称

※1 現在は、ジェフユナイテッド千葉

※2 現在は、東京ヴェルディ 1969

※3 現在は、横浜フリューゲルスを吸収合併して、横浜 F. マリノス

※4 1998 年に横浜マリノスに吸収合併され、チームは消滅

(1) この 10 チームのホームタウンは、関東地方南部から九州地方北部にかけて、工業地域や工業地帯が帯のようにつらなる地域にあります。この帯のことを何というか、答えなさい。

(2) 鹿島アントラーズのホームタウンがある茨城県は、都道府県別の米の収穫量全国 6 位の産地です。米作りで使用される農業機械のうち、稲刈りと脱穀を同時に行うことができるものを次のア～エの中から 1 つ選びなさい。

ア 田植え機 イ コンバイン ウ ドローン エ トラクター

(3) 表 1 中のサッカーチームを支援する企業には、自動車関連企業が多いです。自動車工場では必要なものを必要なときに必要な分だけ部品を供給する仕組みをとっています。その仕組みを次のア～エの中から 1 つ選びなさい。

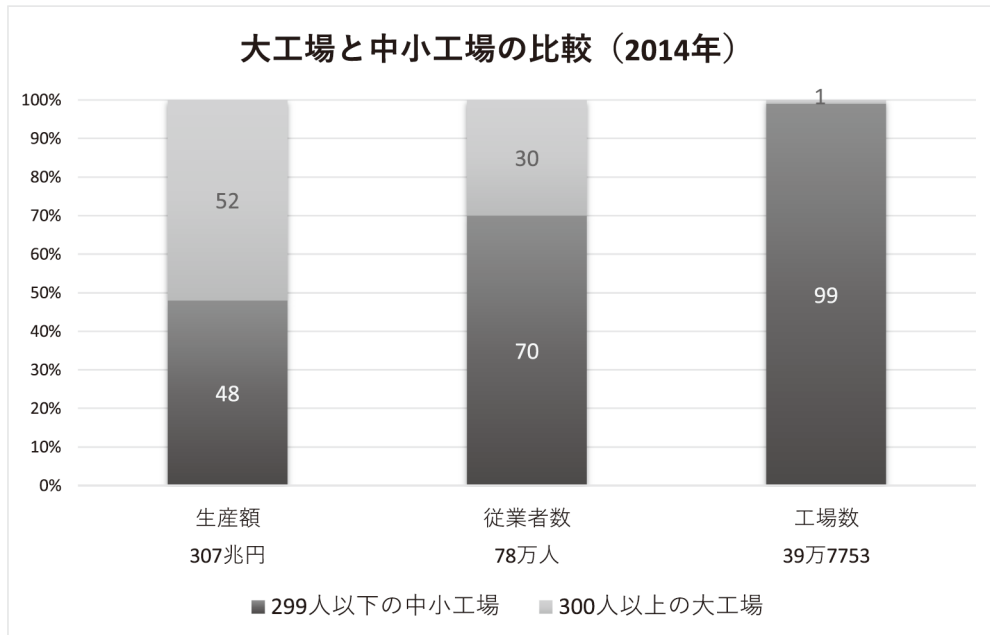
ア トレーサビリティ イ SNS ウ ジャスト・イン・タイム エ マスメディア

(4) 名古屋グランパスエイトのホームタウンがある愛知県では、面する伊勢湾や三河湾で漁業がさかんです。漁業のうち、魚や貝、海藻など人の力で育てて増やす漁業のことを何といいますか。

(5) 浦和レッドダイヤモンズのホームタウン浦和市は合併し、現在は埼玉県の県庁所在地である「さいたま市」となっています。このように県名と県庁所在地の名称が違うところが中国地方に 1 つあります。その県名と都市名をそれぞれ答えなさい。

(6) 清水エスパルスのホームタウン清水市（現在の静岡市）は、古くからサッカーが盛んで「日本のブラジル」とよばれていました。ブラジルが位置している大陸はどこですか。解答らんにあわせて、答えなさい。

(7) ガンバ大阪のホームタウンがある大阪府は、中小工場が多いことで有名です。中小工場と大工場を比較した以下のグラフについて説明した文章として正しいものを次のア～エの中から1つ選びなさい。



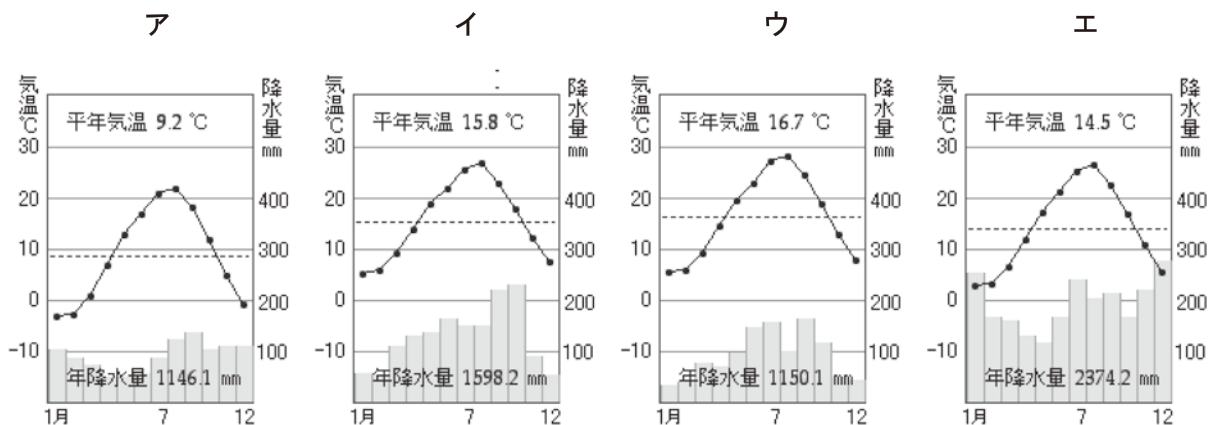
平成 26 年工業統計表より

- ア 大工場の工場数の割合は中小工場の工場数の割合の約 5 分の 1 である。
- イ 従業者数も生産額も中小工場の方が大工場より割合が大きい。
- ウ 中小工場の従業者数は約 300 万人である。
- エ 大工場は中小工場より工場数は少ないが生産額は多い。

(8) 横浜フリーゲルスのメインスポンサーは航空会社でした。航空機で輸送するものとして最も適切なものを次のア～エの中から1つ選びなさい。

- ア デジタルカメラ
- イ 石油
- ウ 天然ガス
- エ 自動車

(9) サンフレッチェ広島ホームタウン広島市は、瀬戸内海に面しています。瀬戸内海に面した地域の気候の特徴をよく示した気温と降水量のグラフを次のア～エの中から1つ選びなさい。



<https://www.nocs.cc/study/uonzu.jp.htm> より

表 2. Jリーグのチームがない県（2023 年現在）

| | | |
|-----|------|-----|
| 福井県 | 滋賀県 | 島根県 |
| 三重県 | 和歌山県 | 高知県 |

(10) 高知県の位置として正しく説明されているものを、次のア～エの中から1つ選びなさい。下記の地図を参考にしてください。

- ア 新潟県より北に位置し、日本海に面している。
- イ 宮崎県より南に位置し、太平洋に面している。
- ウ 和歌山県より西に位置し、太平洋に面している。
- エ 岡山県より東に位置し、日本海に面している。



(11) 2023 年現在、Jリーグには 60 のクラブチームが参加していますが、滋賀県をふくむ表 2 の県には Jリーグに参加しているクラブチームはありません。そのため、滋賀県でも Jリーグに参加するクラブチームをつくる運動が行われています。あなたが考える滋賀県に Jリーグのクラブチームができたときのメリットを答えなさい。

- 2 下記の表は、2023年8月現在、日本でユネスコ世界文化遺産に登録されているもののうち、こまださんが訪問したことがある場所をまとめたものです。これを見て、あとの問題に答えなさい。

表. こまださんが訪問したことがある世界文化遺産


- ①北海道・北東北の縄文遺跡群（北海道，青森県，岩手県，秋田県）
- ②百舌鳥・古市古墳群（大阪府）
- ③（ X ）地域の仏教建造物（奈良県）
- ④古都奈良の文化財（奈良県）
- ⑤古都京都の文化財（京都府，滋賀県）
- ⑥石見銀山遺跡とその文化的景観（島根県）
- ⑦日光の社寺（栃木県）
- ⑧長崎と天草地方の潜伏キリシタン関連遺産（長崎県，熊本県）
- ⑨富士山－信仰の対象と芸術の源泉（静岡県，山梨県）
- ⑩（ Y ）王国のグスク及び関連遺産群（沖縄県）
- ⑪明治日本の産業革命遺産 製鉄・製鋼，造船，石炭産業（岩手県，静岡県，山口県，福岡県，熊本県，佐賀県，長崎県，鹿児島県）
- ⑫原爆ドーム（広島県）

- (1) ①は、縄文時代の人々の生活と精神文化を伝える文化遺産です。縄文時代の遺跡を次のア～エの中から1つ選びなさい。

ア 板付遺跡 イ 吉野ヶ里遺跡 ウ 三内丸山遺跡 エ 登呂遺跡

- (2) ②は、古墳時代につくられた王や豪族の墓群です。日本最大の古墳である仁徳天皇陵古墳（大仙古墳）に代表される資料1のような形の古墳を何とよびますか。解答らんにあわせて漢字で答えなさい。

資料1 仁徳天皇陵古墳（大仙古墳）のような形の古墳



- (3) ③の（ X ）には、聖徳太子が建てた現存する世界最古の木造建築物である寺院の名前が入ります。次のア～エの中から1つ選びなさい。

ア 東大寺 イ 唐招提寺 ウ 延暦寺 エ 法隆寺

- (4) ④の「古都奈良」とは、710年につくられた平城京を指します。西暦710年は何世紀ですか。解答らんにあわせて数字で答えなさい。

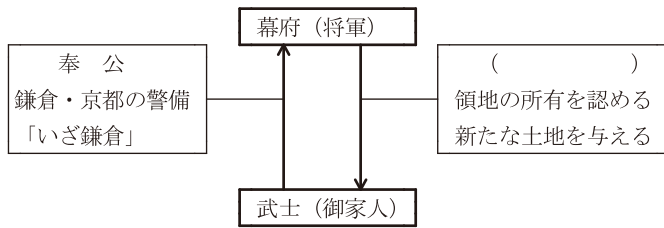
- (5) ⑤の「古都京都」とは、794年につくられた平安京を指します。平安時代の政治について説明した次の文章の（ ）にあてはまる語句を下のア～エの中から1つ選びなさい。

平安京がつくられ有力な貴族が勢力を争うようになりました。中でも、天皇とのつながりを深めた（ ）氏が力をのばして、のちに天皇に代わって政治を動かすほどの権力を持ちました。

ア 織田 イ 豊臣 ウ 藤原 エ 蘇我

(6) ⑥の石見^{いわみ}銀山は、鎌倉時代後半に発見され、室町時代には世界の銀の約3分の1を産出したといわれています。

i. 鎌倉幕府を開いた源頼朝には、多くの武士が御家人として従いました。その関係を示した下の図の空らんにあてはまる語句を答えなさい。



ii. 室町時代に登場した人物の説明として適当なものを次のア～エの中から1つ選びなさい。

- ア 平清盛は、武士として初めて太政大臣の地位についた。
- イ 足利義満は、室町幕府初代将軍として幕府を開いた。
- ウ 北条時宗は、2度にわたりせめてきた元を退けた。
- エ 足利義政は、京都の東山に銀閣を建てた。

(7) ⑦の日光には、徳川家康が「東照^{とうしょうだいごんげん}大権現」としてまつられる日光東照宮があります。徳川家康に関するできごとを説明した文章を次のア～エの中から1つ選びなさい。

- ア 刀狩り令を出し、百姓たちから刀や鉄砲を取り上げて、反抗できないようにした。
- イ ヨーロッパから伝えられたキリスト教を保護し、安土にはキリスト教の学校、京都には教会堂を建てることを許可した。
- ウ 大名が行列を組んで領地と江戸の間を行き来する参勤交代の制度を整えた。
- エ 天下分け目の戦いといわれる関ヶ原の戦いで勝利した。

(8) ⑧の「キリシタン」とはキリスト教徒のことです。江戸幕府はキリスト教を広める恐れのないオランダと中国に限り、貿易船の出入りを、幕府の港町である長崎に限って認めました。この幕府の政策を何といいますか。漢字二字で答えなさい。

(9) ⑨の富士山は、江戸時代の歌川広重「東海道五十三次」にも描かれました。その絵は多色刷りで版画として大量に刷られて安く売られ、多くの人々が買い求めました。このような当時の世の中や人々の様子を描写した絵のことを、次のア～エの中から1つ選びなさい。

- ア 大和絵 イ 浮世絵 ウ すみ絵 (水墨画) エ 油絵

(10) ⑩の (Y) にあてはまる語句を答えなさい。

(11) ⑪の明治時代は1868年に明治天皇の名で政治の方針が定められたことで始まりました。新政府軍を率いて戊辰戦争を戦ったものの、のちに新政府を辞めて西南戦争を起こした薩摩藩出身の人物名を答えなさい。

(12) ⑫は人類初の原子爆弾が使用されたことを人類の未来に語り継ぐべき負の遺産として指定されています。次のア～エの戦争を時代の古い順から並び替えなさい。

- ア 日清戦争 イ 太平洋戦争 ウ 第一次世界大戦 エ 日露戦争

| | |
|------|--|
| 受験番号 | |
| 合計点 | |

| | | | | | | |
|---|------|--|------|----|--|---|
| 1 | (1) | | | | | |
| | (2) | | (3) | | | |
| | (4) | | | | | |
| | (5) | | | 県 | | 市 |
| | (6) | | | 大陸 | | |
| | (7) | | (8) | | | |
| | (9) | | (10) | | | |
| | (11) | | | | | |

| | | | | | | |
|---|------|-------|------|----|----|---|
| 2 | (1) | | (2) | 前 | 後 | 墳 |
| | (3) | | (4) | 世紀 | | |
| | (5) | | | | | |
| | (6) | i | | | ii | |
| | (7) | | (8) | | | |
| | (9) | | (10) | 王国 | | |
| | (11) | | | | | |
| | (12) | → → → | | | | |

| | |
|------|--|
| 受験番号 | |
| 合計点 | |

1次日程入試 **社会** 解答用紙

| | | | | |
|---|------|-------------------------------|------|----|
| 1 | (1) | 太平洋ベルト | | |
| | (2) | イ | (3) | ウ |
| | (4) | 養殖業 | | |
| | (5) | 島根 | 県 | 松江 |
| | (6) | 南アメリカ | 大陸 | |
| | (7) | エ | (8) | ア |
| | (9) | ウ | (10) | ウ |
| | (11) | 例) グッズやチケットなどの収入が増え、経済効果が上がる。 | | |

| | | | | | | | | |
|---|------|---------------|--------|----|----|---|---|---|
| 2 | (1) | ウ | (2) | 前 | 方 | 後 | 円 | 墳 |
| | (3) | エ | (4) | 8 | 世紀 | | | |
| | (5) | ウ | | | | | | |
| | (6) | i | 御恩(ご恩) | ii | エ | | | |
| | (7) | エ | (8) | 鎖 | 国 | | | |
| | (9) | イ | (10) | 琉球 | 王国 | | | |
| | (11) | 西郷隆盛 | | | | | | |
| | (12) | ア → エ → ウ → イ | | | | | | |