

受験番号



2026年度 入学試験問題 1次日程

社 会

注 意

- ① 先生の指示があるまで問題を見てはいけません。
- ② 問題用紙・解答用紙に、受験番号を最初に書きなさい。
- ③ 解答はすべて解答用紙に書きなさい。
- ④ 問題が見にくいなど、何か不つごうなことがあれば、手をあげて先生が来るまで待ちなさい。

近江兄弟社中学校

OMI BROTHERHOOD JUNIOR HIGH SCHOOL

- 1 2025年の気になるニュースをまとめた次の表を作成しました。この表をみて、あとの問題に答えなさい。

2025年のニュース	
令和の①米騒動	主食の②米がスーパーのたなから一時なくなり、価格も急に上がりました。その後、備ちく米などが店頭に並びましたが、価格は今も高い状態です。
異常気象	日本でひんぱつしているもう暑やごう雨などの異常気象は、③地球温暖化によって深刻化していると考えられています。異常気象にともない、④自然災害のリスクも高まっている状態です。
戦後80年	国民に⑤太平洋戦争の終結が伝えられた1945年8月15日から80年が経過しました。長崎市で行われた平和祈念式典の平和宣言で鈴木史朗市長は「長崎の使命として、世界中で受けつぐべき人類共通の遺産である⑥被爆（ひばく）の記おくを国内外に伝え続ける」と決意を表明しました。
⑦大阪・関西万博	4月13日から10月13日までの半年間、184日間にわたって開さいされました。今回のテーマは「いのち輝く未来社会のデザイン」です。158の国や地域と7つの国際機関のほか、自治体や民間企業（きぎょう）も参加しました。リングの内側に⑧各国のパビリオンが建ち並び、「多様でありながらひとつ」という万博の理念をイメージしたとしています。
高校野球	夏の全国高校野球は8月23日、決勝戦が行われ、沖縄尚学高校が、初優勝を果たしました。⑨沖縄県勢が夏の甲子園を制したのは、2010年の興南高校以来、15年ぶりです。
国スポ・障スポ	第79回国民スポーツ大会および第24回全国障害者スポーツ大会（「わたSHIGA輝く国スポ・障スポ」）が⑩滋賀県で開さいされました。

(1) 表中①について、1918年に米の安売りを求める米騒動が富山県で始まり、全国に広がりました。米騒動について、次の問題に答えなさい。

(i) 西暦1918年は何世紀ですか。解答らんにあわせて、数字で答えなさい。

(ii) 富山県は、地方区分で分けると、何地方になりますか。次のア～エから1つ選び、記号で答えなさい。

ア 中国・四国地方 イ 関東地方 ウ 中部地方 エ 近畿地方

(2) 表中②の作物について、右の表は都道府県別の生産量が多い順に示した表です。Aにあてはまる都道府県を答えなさい。

	都道府県	(トン)
1	A	620,000
2	北海道	573,700
3	秋田県	501,200
4	山形県	393,800
5	宮城県	353,400

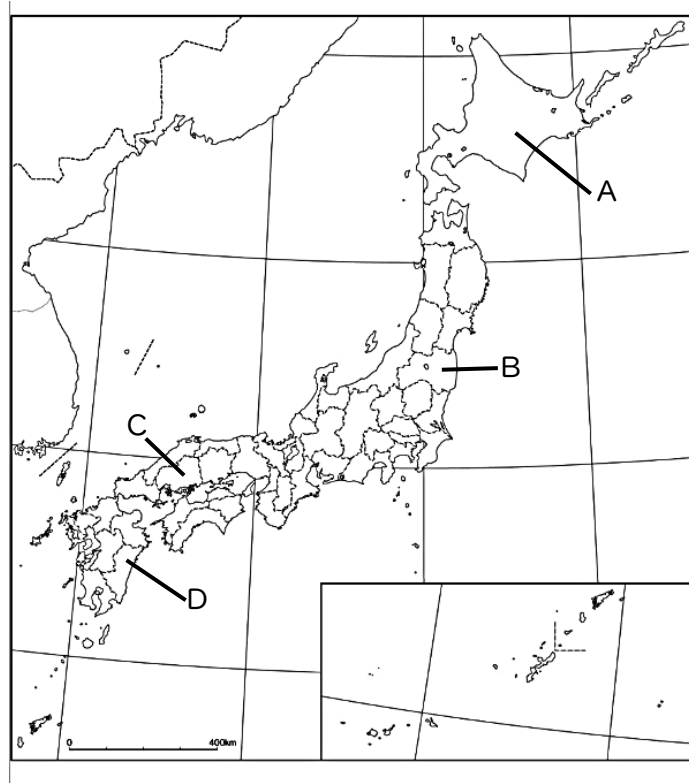
(3) 表中③への対策として、私たちにできることは何がありますか。1つ書きなさい。

(農林水産省資料による)

(4) 表中④について、自然災害として間違っているものを、次のア～エから1つ選び、記号で答えなさい。

ア 津波 イ 交通じゅうたい ウ がけくずれ エ 地しん

(5) 表中⑤の戦争の終わりごろ、1945年8月6日に原子爆弾が投下された都道府県を、地図中のA～Dから1つ選び、記号で答えなさい。



(6) 表中⑥について、人類にとって忘れてはいけない記おくを残すため、1996年に世界平和を願って世界遺産に登録された施設を、次のア～エから1つ選び、記号で答えなさい。

ア 原爆ドーム イ 厳島神社 ウ 日光東照宮 エ 富岡製糸場

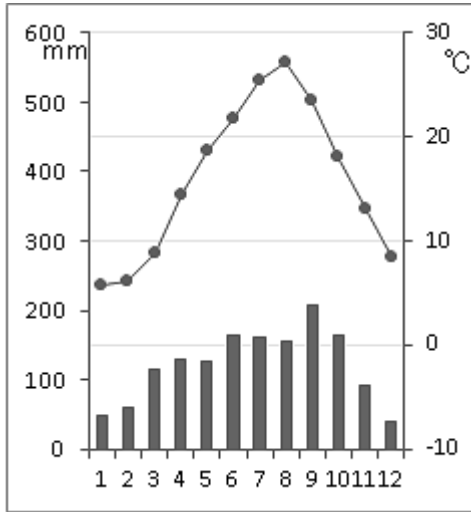
(7) 表中⑦について、「大阪のものづくり」の高い技術力と、ものづくり企業（きぎょう）の素晴らしさを広く伝えることを目的に、万博で「大阪のものづくり おもろいミライ展」が開きされました。このように、大阪を中心とした工業生産額は日本全国でも上位に位置します。大阪を中心とした工業地帯を、解答らんにあわせて答えなさい。

(8) 表中⑧について、下の文にあてはまる国名を答えなさい。

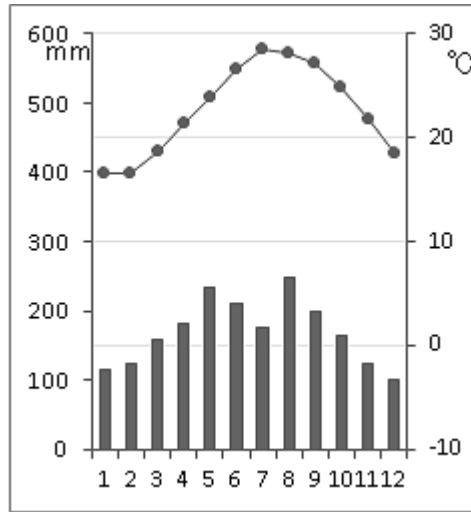
この国はアジアに位置しています。人口は世界第2位です。日本とは古来からつながりが深い国であり、貿易が盛んにおこなわれました。

(9) 表中㊸について、次の雨温図をみて、東京と比べて、沖縄県の気候の特色として正しいものを下のア～エから1つ選び、記号で答えなさい。

東京



那覇市



(気象庁資料などによる)

- ア 冬が長く寒さが厳しい。降水量は東京より少ない。
- イ 夏の気温は東京と同じくらいである。冬に雪が多い。
- ウ 1年を通じて降水量が少なく、気温の差が大きい。
- エ 夏は長く雨が多い。台風も多い。冬はあたたかい。

(10) 表中㊹について、滋賀県のホームページを確認すると、滋賀県の位置について次のようなことが書かれていました。この文を読んで、下の問題に答えなさい。

滋賀県は日本のほぼ中央にあり、北は(A)県、東は(B)県、南東は三重県、西は京都府と接しています。また、まわりを伊吹、鈴鹿、比良、比叡などの山々に囲まれ、中央に県の面積(約4017平方キロメートル)の約6分の1を占(し)める日本で一番大きな湖「びわ湖」があります。

- (i) 文中の空らんA, Bに入る県名を、解答らんにあわせて答えなさい。
- (ii) 文中の三重県の県庁所在地を、解答らんにあわせて答えなさい。

2 次のカードは、各時代のキーワードを記したものです。このカードをみて、あとの問題に答えなさい。

① 飛鳥時代
(X)

② 奈良時代
東大寺の大仏

③ 平安時代
国風文化

④ 鎌倉時代
モンゴル軍

⑤ 室町時代
中国との貿易

⑥ 安土・桃山時代
織田信長・豊臣秀吉

⑦ (Y) 時代
参勤交代

⑧ 明治時代
西洋の文化

(1) カード①の空らん (X) に入るキーワードとして正しいものを、次のア～エから1つ選び、記号で答えなさい。

ア 前方後円墳 イ 冠位十二階 ウ 卑弥呼 エ 行基

(2) カード②について、奈良時代に、東大寺の大仏が造られました。その目的として次の文の空らんに入る宗教名を答えなさい。

() の力を借りて国をまとめ、平和を願うため。

(3) カード③について、平安時代に栄えた国風文化の特色として正しいものを、次のア～エから1つ選び、記号で答えなさい。

- ア 武士が力を持ち、東大寺には力強い金剛力士像がつくられた。
- イ 遣唐使を通じて唐の文化が伝えられ、その影響を強く受けた。
- ウ はなやかな文化が栄え、『源氏物語』などが生まれた。
- エ 禅の影響を受け、茶道や水墨画が広まった。

(4) カード④について、鎌倉時代にはモンゴル軍が攻めてきました。この結果、御家人にはどのような生活の変化がありましたか。正しいものを次のア～エから1つ選び、記号で選びなさい。

- ア 御恩が多くあたえられたので、御家人の生活が苦しくなった。
- イ 御恩が少なかったので、御家人の生活が苦しくなった。
- ウ 御恩が多くあたえられたので、御家人の生活が豊かになった。
- エ 御恩が少なかったので、御家人の生活が豊かになった。

(5) カード⑤について、この時代の中国との貿易は、勘合という証明書が必要でした。この時の中国の王朝を、次のア～エから1つ選び、記号で答えなさい。

ア 秦 イ 宋 ウ 明 エ 清

(6) カード⑥について安土桃山時代、織田信長と豊臣秀吉がおこなった次の(i), (ii)の政策の内容として正しいものを、下のア～カからそれぞれ1つずつ選び、記号で答えなさい。

(i) 織田信長の政策：楽市楽座 (ii) 豊臣秀吉の政策：太閤検地

- ア 宗教の力を利用して政治を安定させた。
- イ 城下町の商人の経済活動を保護した。
- ウ 朝廷の力を利用して権力を高めた。
- エ 耕地の面積を「石高」で表し、全国の土地の生産力を調べた。
- オ 武士が田畑を直接耕すことを決めた。
- カ 農民から刀や弓を取り上げた。

(7) カード⑦について、空らん(Y)に入る時代を、解答らんにあわせて答えなさい。

(8) カード⑧について明治時代の初め、人々は西洋の文化や技術を取り入れて、生活や社会が大きく変化しました。ガス灯や鉄道、洋服などが広まったこのような風潮を何といいますか。答えなさい。

(9) 次の会話文を読んで、どの時代のカードの出来事か、カードの数字を答えなさい。

先生：「この時代の文化には、2つの大きな流れがあったんだ。ひとつは金閣に代表される、きらびやかな文化だよ。」
生徒：「もうひとつは、銀閣に代表される、落ち着いたふん囲いの文化ですね。」
先生：「そうそう。その文化を何と呼ぶかな。」
生徒：「東山文化です。」
先生：「そうだね。銀閣は8代将軍の足利義政が建てたんだね。」

受験番号

合計点

1	(1)	i		世紀	ii		
	(2)						
	(3)						
	(4)						
	(5)						
	(6)						
	(7)	工業地帯					
	(8)						
	(9)						
	(10)	i	A		県	B	
	ii	市					
2	(1)						
	(2)						
	(3)						
	(4)						
	(5)						
	(6)	i		ii			
	(7)	時代					
	(8)						
	(9)						

※

※

受験番号	
合計点	

1次日程入試 **社会** 解答用紙

1	(1)	i	20	世紀	ii	ウ		
	(2)	新潟(県)						
	(3)	節電する。徒歩や自転車で移動する。環境に配慮した商品を買う。 など						
	(4)	イ						
	(5)	C						
	(6)	ア						
	(7)	阪神 工業地帯						
	(8)	中華人民共和国(中国)						
	(9)	工						
	(10)	i	A	福井	県	B	岐阜	県
	ii	津 市						※
2	(1)	イ						
	(2)	仏教						
	(3)	ウ						
	(4)	イ						
	(5)	ウ						
	(6)	i	イ			ii	工	
	(7)	江戸 時代						
	(8)	文明開化						※
	(9)	5						